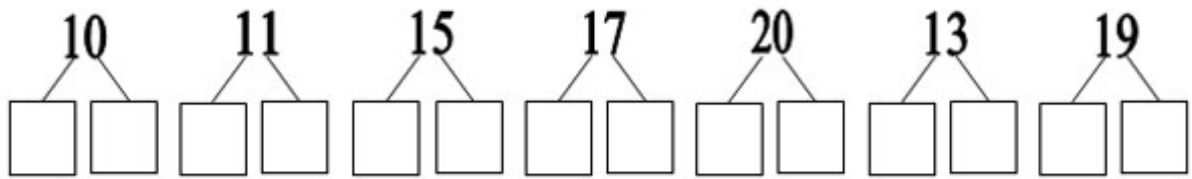
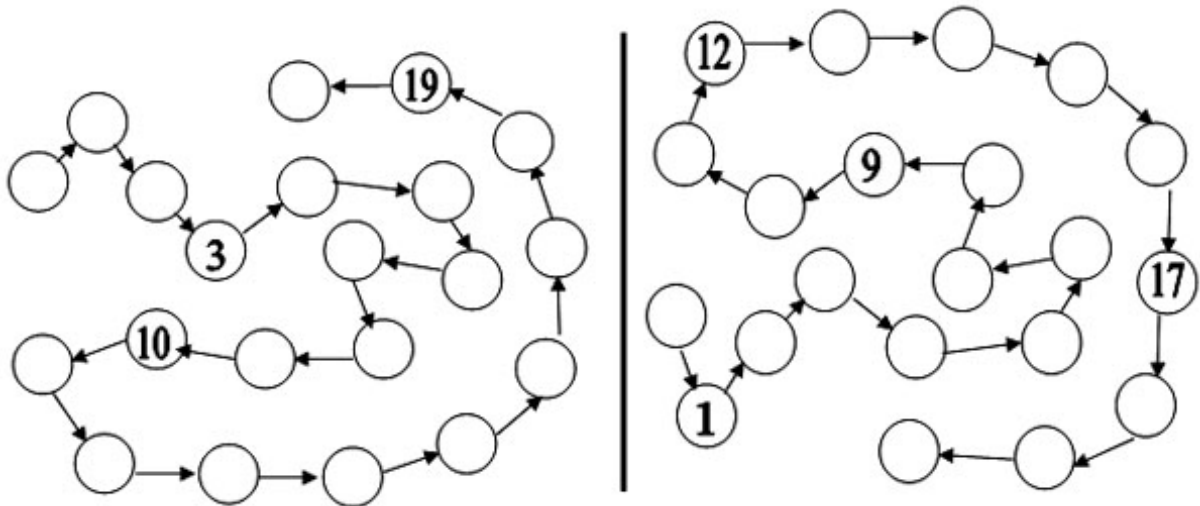


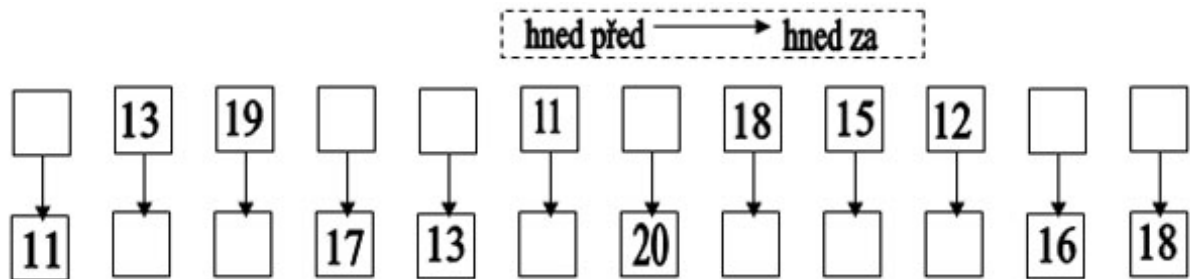
3. Zapište desítku a jednotky.



4. Doplňte do kroužků čísla od 0 do 20.



5. Doplňte do rámečků čísla podle nápovědy.



6. Porovnejte čísla. < > =

| | | | | | |
|----|----|----|----|----|----|
| 15 | 17 | 15 | 13 | 11 | 12 |
| 11 | 19 | 18 | 18 | 6 | 16 |
| 17 | 7 | 13 | 5 | 14 | 20 |

7. Vybarvěte modře všechna čísla před číslem 9. Čísla za číslem 9 vybarvěte červeně. Poté je zapište na správné řádky.



Čísla

Čísla.....

.....
jsou před číslem 9 -
jsou menší než 9.

.....
jsou za číslem 9 -
jsou větší než 9.

8. V řadě čísel vybarvěte všechna čísla menší než 13. Poté zapište všechna čísla, která zastupuje písmeno a.

$$a < 13$$



9. Zapisujte, která čísla zastupují písmena. (Řešte nerovnice.)

$$12 < e$$

$$20 > a$$

$$n < 18$$

$$m > 16$$

$$15 > v$$

$$7 < r$$

10. V řadě čísel vybarvěte všechna čísla větší než 3 a zároveň menší než 13. Zapište všechna čísla, která je možno dosadit za písmeno n.

$$3 < n < 13$$



11. Řešte nerovnice. (Která čísla můžeme dosadit místo písmen?)

$$5 < z < 9$$

$$14 < n < 20$$

$$13 < x < 18$$

$$11 < u < 18$$

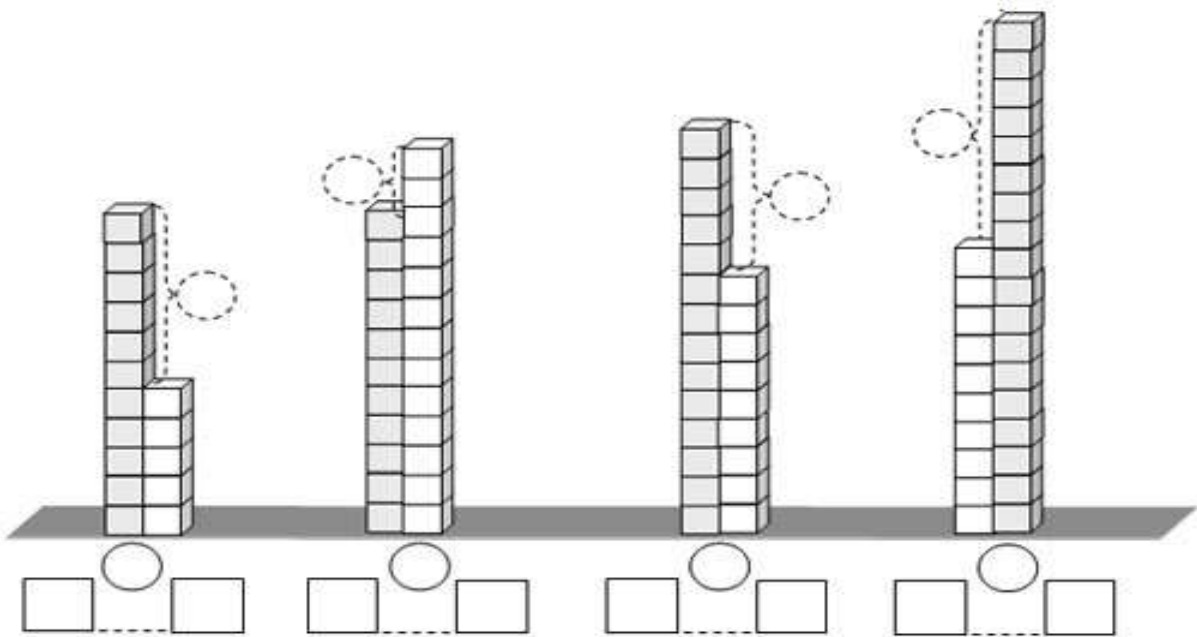
$$8 < a < 13$$

$$7 < r < 15$$

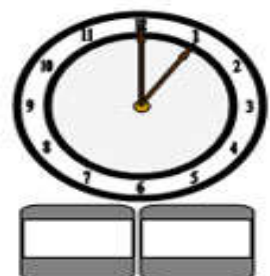
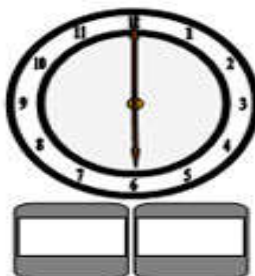
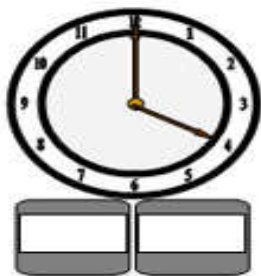
$$9 < m < 19$$

$$19 < e < 20$$

12. O kolik kostek je v jednom sloupečku více (méně) než v druhém?



13. Zapište, kolik je hodin. Na dalších hodinách dokreslete ručičku.



19:00

15:00

14:00

17:00

